














# ひょうとグラフ ⑤ 名前

川で、石ひろいをしました。ひょうを見て  
答えましょう。

● ひろった石の数 ●

6					
5					
4					
3					
2					
1					
0					
	ただし	ゆうき	まさお	えり子	みちよ

① まさおさんは、何こひろいましたか。

( )

② 一番多くひろった人はだれでしょう。

( )

③ ただしさんは、えり子さんより何こ多くひろったでしょう。



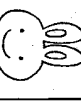


( )

④ みんなで何この石をひろったでしょう。

( )

● もんだいに答えましょう。

● ペットを飼っている人の数 ●

8					
7					
6					
5					
4					
3					
2	<input type="checkbox"/>	<input type="checkbox"/>	<input type="checkbox"/>	<input type="checkbox"/>	<input type="checkbox"/>
1	<input type="checkbox"/>	<input type="checkbox"/>	<input type="checkbox"/>	<input type="checkbox"/>	<input type="checkbox"/>
0					
					そのほか

① イヌを飼っている人は、何人でしょう。

( )

② ネコを飼っている人は、サカナを飼っている人より、何人多いでしょう。( )

( )

③ ペットを飼っている人は、ぜんぶで何人でしょう。( )

( )