




ひょうとグラフ ④



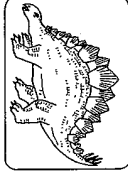
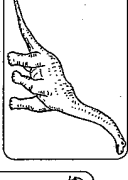








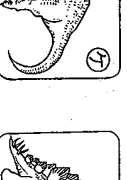

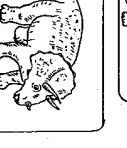




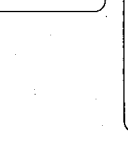

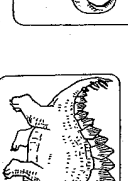
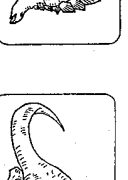


名前

- クラスで好きなきょうりゅうを 1人 1つずつ
黒ばんに はりました。

					
チイラノサウルス	ステゴサウルス	イグアノドン	ウルトラサウルス	トリケラトプス	テラトサウルス

①はおれさまだ!

⑥はほく
だよ。おとほ
つけね。

- ① ひょうに まとめましょう。

きょうりゅう 人数	チイラノ サウルス	ステゴ サウルス	イグアノ ドン	ウルトラ サウルス	トリケラ トプス	テラト サウルス

- ② ①の ひょうを見て、 ③ 好きな人が いちばん 多い
○をつかって グラフに きょうりゅうは何ですか。
あらわしましょう。

好きな きょうりゅう	人数
チイラノ	
ステゴ	
イグアノ	
ウルトラ	
トリケラ	
テラト	

- ④ ステゴサウルスが 好きな人
とイグアノドンが 好きな人の
ちがいは 何人ですか。
()
- ⑤ グラフを もつと 見やすく する
ために グラフの 左に 人数
を 入れましょう。5の ところ
の 線を 太く しましょう。
()
- ⑥ クラスの 人数は 何人ですか。
()