

◆それぞれの問題について、マークに○をつけましょう。

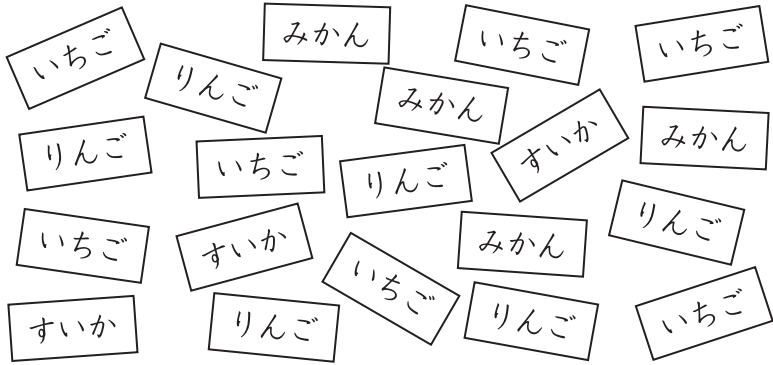
😊自信あり 😊まあまあ自信あり 😞少し自信なし 😞自信なし

3年

15. 表とグラフ

クラス	名
	組前

① 子ども会で、3年生の20人が、りんご、いちご、すいか、みかんの中から好きなくだものをえらび、1人が1つずつかきました。



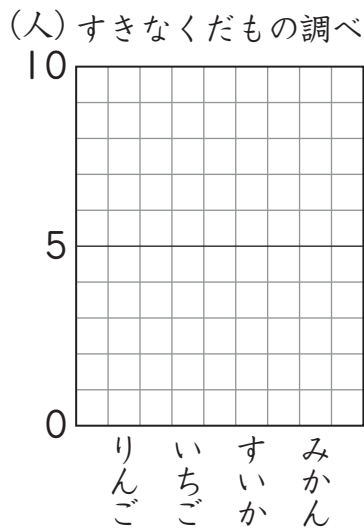
① 下の表に正の字をかいて、整理しましょう。

りんご	
いちご	
すいか	
みかん	

② 正の字を数字にかきなおしましょう。好きなくだもの調べ

くだもの	人数 (人)
りんご	
いちご	
すいか	
みかん	
合計	

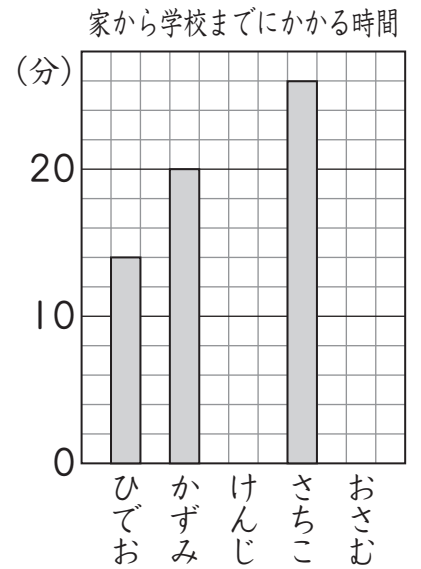
③ ぼうグラフにあらわ表しましょう。



④ すきな人がいちばん多いくだものは何ですか。

😊 😊 😞 😞

② 右のぼうグラフは、家から学校まで歩いたときにかかる時間を表したものです。



① たての1目もりは、何分を表していますか。

② さちこさんは、家から学校まで何分かかりますか。

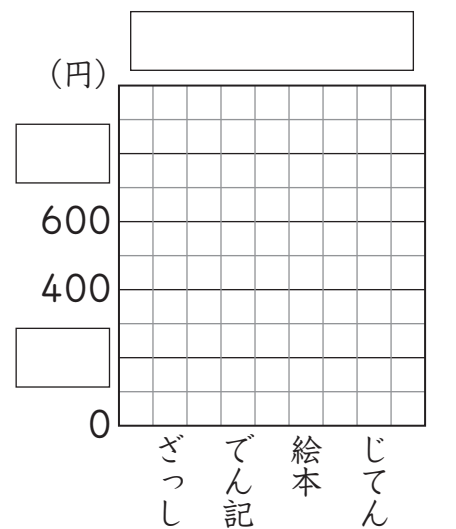
③ けんじさんは16分、おさむさんは22分かかるそうです。それぞれ、ぼうグラフに表しましょう。

😊 😊 😞 😞

③ □にあてはまることばや数をかいて、次の表をぼうグラフに表しましょう。

本のねだん

本	ねだん (円)
ざっし	300
でん記	600
絵本	500
じてん	900



😊 😊 😞 😞

(表とグラフ) の学習をふりかえって

★ この学習は楽しかったですか。

(はい まあまあ 少し いいえ)

● じゅぎょうの中で、おもしろかったことやわかったことなどのかんそうをかきましょう。

◆ この学習はよくわかりましたか。

(はい まあまあ 少し いいえ)